









Projekt współfinansowany przez Unię Europejską w ramach Europejskiego Funduszu Społecznego.

Karta pracy – Sportowcy na start







Zadanie 1

Oblicz i wstaw odpowiedni znak: $<$, $>$, $=$, między działaniami

<div>2</div>	<div>9</div>	<div>3</div>	<div>8</div>	<div>4</div>	<div>7</div>	<div>5</div>	<div>6</div>
							
\cdot		\cdot		\cdot		\cdot	
<div></div>		<div></div>		<div></div>		<div></div>	

Zadanie 2

Oblicz:

<div>2</div>	<div>3</div>	<div>4</div>	<div>5</div>	<div>6</div>	<div>7</div>
					
$\cdot 7$	$\cdot 6$	$\cdot 5$	$\cdot 4$	$\cdot 3$	$\cdot 2$
<div></div>	<div></div>	<div></div>	<div></div>	<div></div>	<div></div>

Projekt współfinansowany przez Unię Europejską w ramach Europejskiego Funduszu Społecznego.

Zadanie 3

Oblicz i wstaw odpowiedni znak między działaniami

$3 \cdot 4 \quad \square \quad 3 \cdot 5$

$4 \cdot 4 \quad \square \quad 8 \cdot 2$

$5 \cdot 5 \quad \square \quad 3 \cdot 7$

$9 \cdot 2 \quad \square \quad 4 \cdot 5$

$9 \cdot 3 \quad \square \quad 5 \cdot 6$

$4 \cdot 8 \quad \square \quad 3 \cdot 5$

$3 \cdot 9 \quad \square \quad 4 \cdot 7$

$9 \cdot 4 \quad \square \quad 5 \cdot 7$

Zadanie 4

Oblicz:

